
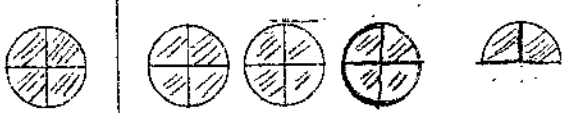
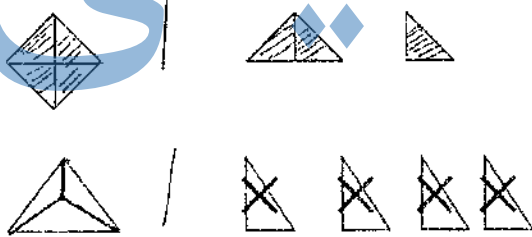


نام خانوادگی:	بسم الله الرحمن الرحيم	زمان پیشنهادی: دقیقه
نام پدر:	ارزشیابی درس ریاضی	تاریخ: ۹ / /
	دبستان شاهد دخترانه	پایه پنجم

ردیف	متن سوالات
۱	در عدد (۸۷۴۰۰۹۵۶) رقم ۸ در چه مرتبه ای قرار دارد؟ <input type="checkbox"/> دهگان میلیارد <input type="checkbox"/> دهگان میلیون <input type="checkbox"/> صدگان هزار <input type="checkbox"/> دهگان هزار
۲	کدام یک از اعداد زیر بزرگتر از بقیه است؟ <input type="checkbox"/> ۵۳۶۳۹ <input type="checkbox"/> ۹۰۰۰۷ <input type="checkbox"/> ۹۹۹۹۹ <input type="checkbox"/> ۱۰۰۱۱۰
۳	اگر باقیمانده تقسیمی عدد ۷ و خارج قسمت آن ۹ و مقسوم علیه آن عدد ۱۰ باشد، مقسوم کدام است؟ <input type="checkbox"/> ۷۳ <input type="checkbox"/> ۷۹ <input type="checkbox"/> ۹۰ <input type="checkbox"/> ۹۷
۴	برای عبارت « $\frac{۴}{۴} + \frac{۴}{۴} + \frac{۴}{۴} + \frac{۳}{۴}$ » کدام عدد مخلوط را می توان بنویسیم؟ <input type="checkbox"/> $۱\frac{۱۱}{۴}$ <input type="checkbox"/> $۲\frac{۷}{۴}$ <input type="checkbox"/> $۳\frac{۳}{۴}$ <input type="checkbox"/> $۴\frac{۳}{۴}$
۵	کدام یک از شکل های زیر کسر $\frac{۲}{۳}$ را نشان می دهید؟  <input type="checkbox"/> الف) <input type="checkbox"/> ب) <input type="checkbox"/> ج) <input type="checkbox"/> د)
۶	تفاوت دو عدد «۱ و $\frac{۴}{۱۵}$ » کدام است؟ <input type="checkbox"/> الف) $\frac{۳}{۱۵}$ <input type="checkbox"/> ب) $\frac{۱۰}{۱۵}$ <input type="checkbox"/> ج) $\frac{۱۱}{۱۵}$ <input type="checkbox"/> د) $۱\frac{۴}{۱۵}$
۷	حاصل جمع های زیر را به ساده ترین روش ممکن به دست آورید؟ $\frac{۴}{۱۵} + \frac{۵}{۱۵} + \frac{۶}{۱۵} + ۹ =$ $\frac{۳}{۳} + ۲ + \frac{۹}{۹} + \frac{۱۱}{۱۱} + ۳ =$
۸	عددهای مخلوط زیر را به کسر و کسر را به عدد مخلوط تبدیل کنید. $\frac{۷۵}{۱۵} =$ $\frac{۳۸۰}{۱۸۰} =$ $۱۸\frac{۱۵}{۲۳} =$ $۲۱\frac{۳}{۱۴} =$

۹	یک عدد ۶ رقمی به دلخواه بنویسید که بر اعداد ۲ و ۳ و ۵ و ۹ و ۱۵ و ۱۸ بخش پذیر باشد ؟
۱۰	باقیمانده ی تقسیم ۸۵ بر ۹ مثل باقیمانده ی تقسیم است بر ۹ ، یعنی پس ۸۵ بر ۹ بخش پذیر ؟
۱۱	برای شکل های زیر یک کسر بزرگتر از واحد و یک عدد مخلوط بنویسید .  عدد مخلوط = کسر =
۱۲	اگر ۹ بسته ی ۱۸ تایی مداد را بین ۶ نفر بطور مساوی تقسیم کنیم به هر کدام چند عدد مداد می رسد ؟
۱۳	محمدرضا $\frac{۲}{۷}$ پولش را دیروز و $\frac{۳}{۷}$ آن را امروز خرج کرده ، چه کسری از پولش باقی مانده است ؟
۱۴	ربع تمبرهای فاطمه ۱۵ تا است . تمام تمبرهای او چند تا است ؟ - خمس تمبرهای او چند تا است ؟
۱۵	با توجه به واحد ، عبارت مربوط به شکل های هر ردیف را بنویسید ؟  =
۱۶	مقایسه کنید $\frac{۱۷}{۵}$ و $\frac{۴}{۵}$ $\frac{۳}{۵}$ و $\frac{۴}{۵}$ ربع ۴۰ تا \square نصف ۲۰ تا
۱۷	در جای خالی عدد مناسب بنویسید ؟ $\frac{۳۶}{۹} = \frac{۴}{\dots}$ $\frac{۷}{\dots} = \frac{۷}{۴}$ $\frac{۵}{\dots} = \frac{\dots}{۱}$
۱۸	چهار کسر مساوی $\frac{۳}{۵}$ بنویسید . $\frac{۳}{۵} = \dots = \dots = \dots = \dots$
۱۹	کسرهای زیر را تا جایی که امکان دارد ساده کنید ؟ $\frac{۸۴}{۹۶} = \dots$ $\frac{۳۶}{۵۴} = \dots$ $\frac{۹۰}{۱۸۰} = \dots$